

小学校3年 □を使った式

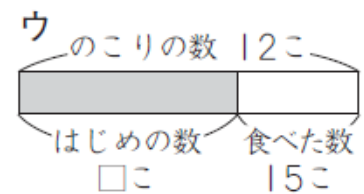
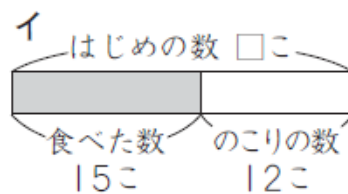
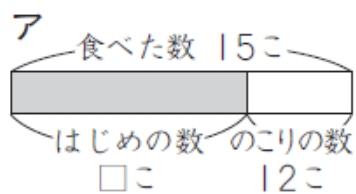
【問題】

(3) 次の問題文を読んで答えましょう。

いちごが、何こかありました。15こ食べたら、12このこりました。
いちごは、はじめに何こありましたか。

はじめのいちごの数を□ことして、図と式に表します。上の問題文とあう図を
ア～ウから、式をエ～カから1つずつえらんで、記号を書きましょう。

(図)



(式)

エ $\square - 15 = 12$

オ $15 - \square = 12$

カ $\square + 12 = 15$

【解答】

(図) イ (式) エ