

小学校2ねん（たし算とひき算）図を使って考えよう

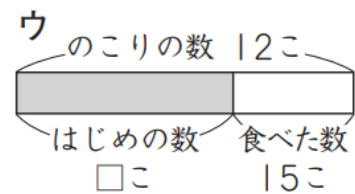
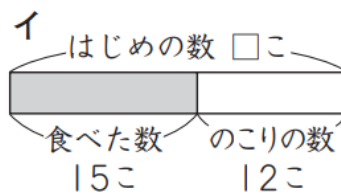
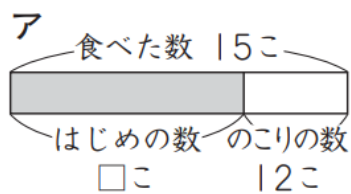
【もんだい】

(3) 次の問題文を読んで答えましょう。

いちごが、何こかありました。15こ食べたら、12このこりしました。
いちごは、はじめに何こありましたか。

はじめのいちごの数を□ことして、図と式に表します。上の問題文とあう図を
ア～ウから、式をエ～カから1つずつえらんで、記号を書きましょう。

(図)



(式)

エ $\square - 15 = 12$

オ $15 - \square = 12$

カ $\square + 12 = 15$

【かいとう】

(図) イ

(式) エ