

中学校1年生 ユーラシアの動きと武士の政治の展開

【問題1】

3 年表や資料を見て、次の問いに答えなさい。

(1) Aについて、足利尊氏が征夷大將軍となって政治を行っていた場所を、資料1のア～エから1つ選びなさい。

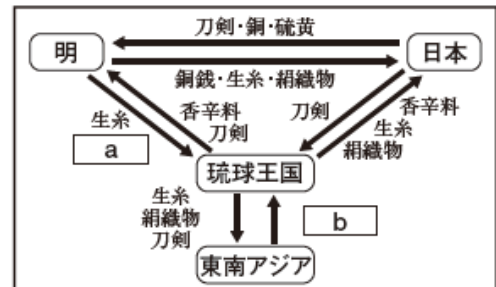
【資料1】



【年表】

年	おもなできごと
1338	足利尊氏が征夷大將軍となる …A
1429	琉球王国ができる …B
1467	(X) がおこる …C
1573	室町幕府が滅亡する
1603	江戸幕府が開かれる
1615	武家諸法度が制定される …D

【資料2】 アジア諸国の貿易



(2) Bについて、資料2はこのころの琉球王国とアジア諸国との貿易の様子を示している。資料2の a と b には、この資料で示されている貿易品のいずれかが、それぞれあてはまる。 a と b にあてはまる貿易品を、それぞれ書きなさい。

(3) Cについて、次の①、②の問いに答えなさい。

① (X) は、将軍家や管領家のあとつぎをめぐる対立から起こった戦いである。この戦いを何というか、書きなさい。

② Cの後、各地で戦国大名が力をのばした。資料3は、戦国大名が定めたおきて(法)の一部を要約したものである。このような戦国大名が独自に定めたおきて(法)を何というか、書きなさい。

【資料3】

けんかをした者は、いかなる理由によるものでも、処罰する。
武田氏(「甲州法度之次第」)

(4) Yについて、このころの交通の様子を表した文として最も適切なものを、次のア～エから1つ選びなさい。

- ア 定期市が開かれる回数も増え、陸上での輸送に馬借が活躍した。
- イ 五街道が整備され、東廻り航路や西廻り航路の海上交通網も整備された。
- ウ 都と地方が道路で結ばれ、国司などの役人が行き来するための駅が設けられた。
- エ 関所が廃止されたことにより、交通が自由になり、商工業が発展した。

【問題2】

3 年表や資料を見て、あとの問いに答えなさい。

[年表]

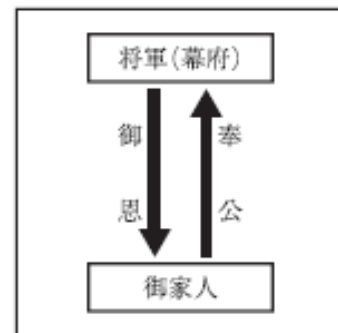
年(世紀)	おもなできごと	
(12世紀半ば)	平清盛が(X)の港を整備し、宋と貿易を行う	… A
1185	源頼朝が国ごとに守護を、荘園や公領ごとに(Y)を置く	… B
(13世紀頃)	軍記物の「平家物語」が琵琶法師によって語り伝えられる	… C
1333	鎌倉幕府をたおした後醍醐天皇が建武の新政を始める	
(15世紀前半)	室町幕府が明との正式な貿易を始める	… D
1498	バスコ・ダ・ガマの船隊がインドに到達する	
(16世紀後半)	ポルトガルやスペインとの貿易がさかんになる	… E

(3) Cについて、資料1は、このころの将軍(幕府)と御家人の関係を題材とした物語の一部である。資料1に書かれていることのうち、図中の御恩にあたるものは、だれ (a) が、どのようなことをした (b) ことか。あとの の a と b にあてはまる言葉を書きなさい。

[資料1]

御家人、佐野常世は、先祖伝来の領地を不当に奪われ、山里でひっそりとくらしていた。ある大雪の夜、常世の家に一人の旅の僧が訪れ、一夜の宿を求めた。常世は質素であるが、精一杯のもてなしをした。常世は僧に、このようなくらしであるが、戦いが起こればいち早く鎌倉にかけつける心構えであることを語った。その後、幕府から御家人に対し、戦いのために鎌倉に集まるよう命令が下った。常世はいち早く鎌倉にかけつけた。常世はそこで僧と再会し、実は僧が前の執権北条時頼であることを知った。常世の行動に感動した時頼は、幕府の役人に命じ、常世の先祖伝来の領地を取り戻し、与えてやった。 (『鉢木』一部要約)

[図]



だれ a が b どのようなこと こと

(4) Dについて、次の文は、この貿易についてまとめたものである。 Z にあてはまる言葉を書きなさい。

日本と明との貿易は、貿易を行うための船が正式な貿易船であることを証明するために、資料2のような Z という証明書を用いたことから、 Z 貿易と呼ばれている。

[資料2]



(5) Eについて、この時代の様子を述べた文として最も適切なものを、次のア～エから1つ選びなさい。

- ア 幕府の保護を受け、座禅を組む禅宗が武士のあいだに広がっていった。
- イ 貴族の文化と武士の文化を合わせた、簡素で深みのある文化が生まれた。
- ウ 死後に極楽浄土へ生まれ変わることを願う、浄土信仰(浄土教)がおこった。
- エ 力のある大名と大商人らの権力と富を基盤とした、雄大で豪華な文化が発展した。

【問題3】

3 [A]～[D]のカードは、外国との貿易に関する歴史的なことがらをまとめたものである。これを見て、あとの問いに答えなさい。

A	B	C	D
<p>(X)は、明との貿易を行った。その結果、日本の経済や文化は大きな影響を受け、幕府に多大な利益をもたらした。</p>	<p>戦国大名の中には、ポルトガル人やスペイン人との貿易の利益や鉄砲に着目して、経済力や軍事力を高めるものが現れた。</p>	<p>徳川家康は、朱印船貿易を行った。その結果、東南アジア各地に日本町ができるとともに、幕府に多大な利益をもたらした。</p>	<p>開国後、通商条約が結ばれ、外国との自由な貿易が始まった。その結果、<u>人々の生活や経済に大きな影響が出た。</u></p>


(1) [A]のカードについて、次の①、②の問いに答えなさい。

[資料1]

① (X)にあてはまる人物名を、次のア～エから1つ選びなさい。

ア 足利義満 イ 源頼朝 ウ 北条時宗 エ 織田信長

② この貿易では、右の資料1のような証明書（合い札）が用いられた。この証明書を何というか、書きなさい。



(2) [B]のカードについて、この頃の国外の様子について述べた文として、最も適切なものを、次のア～エから1つ選びなさい。

ア 中国では、政府が重税を課したことをきっかけに、太平天国の乱が各地に広がった。

イ ヨーロッパでは、宗教改革が始まり、イエズス会がプロテスタントに対抗した。

ウ 朝鮮半島では、高麗がほろび、朝鮮国が建国された。

エ フランスでは、ナポレオンが皇帝となり、ヨーロッパの大部分を支配した。

〈解答〉

【問題1】

設問番号		正 答 例	準 正 答 例	留 意 事 項	
3 6	(1)	イ			
	(2)	a	絹織物		完答のみ可。
		b	香辛料		
	(3)	①	応仁の乱		
		②	分国法		
	(4)	ア			

【問題2】

- (3) a 北条時頼、執権北条時頼、時頼 b 領地を取り戻し、与えてやった
(4) 勘合
(5) エ

【問題3】

- (1) ① ア ② 勘合(符)
(2) イ