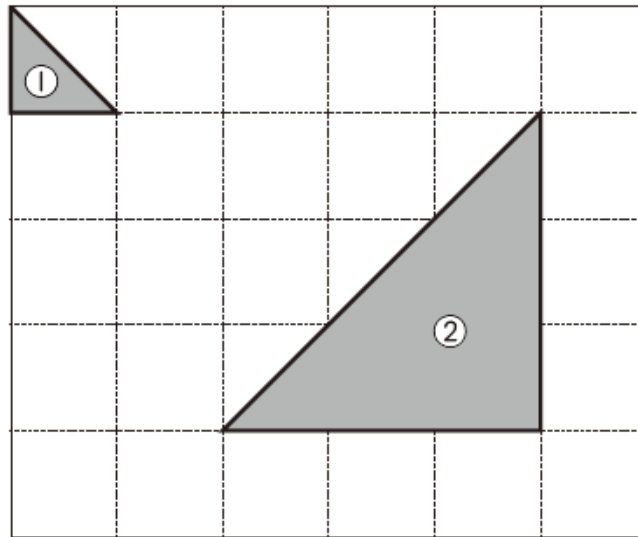


小学校1年 さんすう「かたちづくり」

【もんだい1】

(5) 下の色板①を使って、②の形をつくりました。②の形は、色板①を何まい使う
とできますか。答えを書きましょう。



【もんだい2】

(3) 図1のように4まいの色板でつくられた正方形があります。この色板を全部使っ
て、図2のような形を作りました。4まいの色板をどのようにならべたかわかる
ように、解答用紙の図の中に線を書き入れましょう。じょうぎは使っても使わな
くてもよいです。

図1

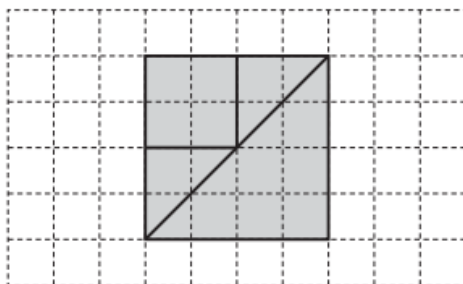
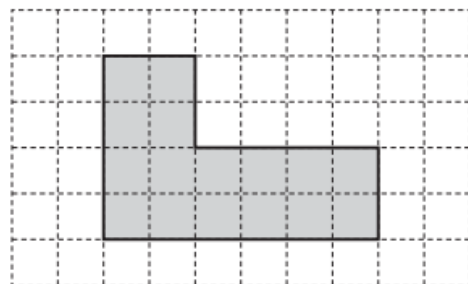


図2



【もんだい1】

9(まい)

【もんだい2】

