

Ⅰ さくらさんは、石川県の様子について復習をするために、カルタづくりをしました。
あとの問いに答えましょう。

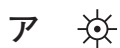
A	B	C	D	E	F
① 石川は いろいろな 国と 仲よしだ	② 金沢港 クルーズ船が 大きいな	③ 市は11 町は8つの 石川県	④ きれいだな 豊かな自然 もあつても	⑤ 技師が 伝統を守る 職人達	⑥ すばらしい 工業製品 数多く



(1) 学校で使っている地図帳 [帝国書院^{ていこくしょいん}31～32ページ, 東京書籍^{とうきょうしょせき}33～34ページ] を参考にして、次の問いに答えましょう。

① Aのカルタについて、石川県には海外とつながる空港が、「のと里山空港」ともう1つあります。その空港の名前を書きましょう。

② Bのカルタについて、港を表す地図記号を、次のア～ウから1つ選び、その記号を書きましょう。



③ Cのカルタについて、金沢市役所から石川県で一番東にある市の市役所までの距離^{きょり}は、直線でおよそ何kmになりますか。市役所の位置を示す地図記号をもとに、地図帳で調べて書きましょう。

④ Dのカルタについて、石川県の地形の様子を説明する文として正しいものを、次のア～エから2つ選び、その記号を書きましょう。

ア 石川県で一番高い山は白山で、一番長い川は手取川である。

イ 石川県で一番大きな島は能登島で、太平洋に面している。


ウ 石川県で一番大きな潟^{かた}である河北潟は、金沢平野の北の方に位置している。

エ 石川県は、東から西に向かって細長くなっていて、北部は日本海につき出た半島である。

⑤ Eのカルタについて、石川県で受けつがれている伝統的な産業（工業）を、地図帳から2つ選んで書きましょう。

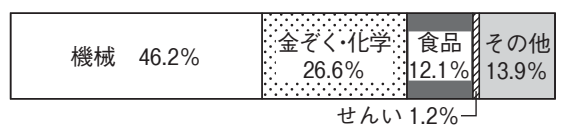
(2) Fのカルタについて、さくらさんは、石川県の工業の特色をノートにまとめました。資料1と資料2を比べて、ノートのXにあてはまる言葉を書きましょう。

[資料1] 石川県の工業別生産額の割合^{わりあい}



(石川県資料より作成)

[資料2] 全国の工業別生産額の割合



(経済産業省資料より作成)

【さくらさんのノート】

<石川県の工業の特色> X の生産額の割合が全国よりも高い。

- 1 輪島市に住んでいるさくらさんとお父さんは、車で加賀市のおばさんの家に出かけることになり、地図を見ながら話し合っています。

さくら：「輪島市から加賀市までは、どのように行くの。」

お父さん：「のと里山海道を^{ていこくしやういん}通って、^{とうきやうしよせき}①金沢市に向かうよ。そのあと、金沢市から（ A ）という高速道路を^{とうきやうしよせき}通って加賀市に向かうよ。」

さくら：「金沢市から高速道路を走っていくときに、②海が見られそうだね。③空港から飛び立っていく飛行機も見られるかもしれないね。」

お父さん：「④長い距離^{きやうり}を走ることになるから、白山市で休けい^{きゆうけい}をしよう。そのあたりではたくさんの⑤水田も見られると思うよ。」

- (1) 学校で使っている地図帳 [帝国書院^{ていこくしやういん}31～32ページ、東京書籍^{とうきやうしよせき}33～34ページ] を参考にして、次の問いに答えましょう。

- ① 下線部①について、石川県内で金沢市だけにあるものを、次のア～エから1つ選び、その記号を書きましょう。

ア 史跡^{しせき} イ 県庁 ウ 温泉 エ 港

- ② Aにあてはまる、高速道路の名前を書きましょう。

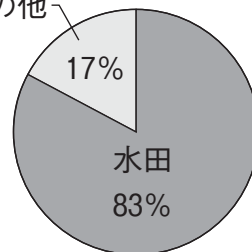
- ③ 下線部②の海の名前を書きましょう。

- ④ 下線部③の空港がある市はどこでしょう。解答用紙の白地図から、③の空港がある市を選び、えんぴつでぬりつぶしましょう。

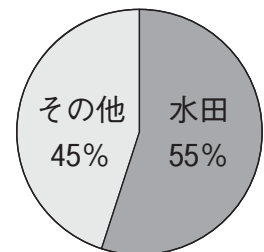
- ⑤ 下線部④について、輪島市の市役所と加賀市の市役所までの距離は、直線でおよそ何kmになりますか。市役所の位置を示す地図記号をもとに、地図帳で調べて書きましょう。

- (2) 下線部⑤について、さくらさんは、石川県の農業について調べ、その特色をノートにまとめました。資料1と資料2をもとに、ノートのBにあてはまる言葉を書きましょう。

[資料1]
耕地のうちで水田のしめる割合(石川県)
その他



[資料2]
耕地のうちで水田のしめる割合(全国)



(資料1, 2ともに北陸農政局資料より作成)

【さくらさんのノート】

資料1と資料2を比べると、石川県の耕地のうちで水田のしめる割合が、

ので、石川県は米づくりがさかんだといえる。

Ⅰ さくらさんのクラスでは、石川県の様子について調べたことをカードにまとめました。学校で使っている地図帳〔帝国書院^{ていこくしょいん}51～52ページ〕を参考にして、あとの問いに答えましょう。

石川県の地形について

○南北に細長い形で、日本海につき出している

- ・一番大きい島…(①)
- ・一番長い川…手取川
- ・一番高い山…(②)

石川県の主な交通について

○高速道路…(③)自動車道

○鉄道…北陸新幹線、北陸本線、七尾線^{ななお}

○空港…①小松空港、②のと里山空港

○港…^{かなざわ}金沢港、七尾港

石川県の市や町について

○市や町の数…19

○県庁所在地…③市^{けんちやうしよざいち}

石川県の主な産業について

○伝統的な産業…④九谷焼^{きより}、輪島塗^{おじまぬり}

○工業…タッチパネル、ブルドーザー

○農業…米、加賀野菜



- (1) ①にあてはまる島，②にあてはまる山，③にあてはまる高速道路の名前を地図帳で調べ，それぞれ書きましょう。
- (2) 下線部①小松空港と下線部②のと里山空港の距離は，直線でおよそ何kmになるか書きましょう。(それぞれの空港の位置を示す地図記号の中心から中心までの長さをものさしで測り，地図帳の縮尺を使って求めます。)
- (3) 県庁所在地である下線部③市を，解答用紙の白地図から選び，えんぴつでぬりつぶしましょう。
- (4) さくらさんは，下線部④九谷焼について，資料1と資料2をもとにノートにまとめました。ノートのAとBにあてはまる言葉や数を書きましょう。

[資料1] 石川県立九谷焼技術研修所について

所在地：能美市

目的：九谷焼についての知識と技術を教え，九谷焼の仕事をする人を育てること。

(石川県資料より作成)

[資料2] 九谷焼の仕事をしている人の数

2010年	1165人
2015年	822人
2020年	812人

(石川県統計資料より作成)

【さくらさんのノート】

- ・石川県は，九谷焼技術研修所をつくり，九谷焼の仕事をする人を育てている。これは，石川県の伝統的な産業を A 必要があるからだ。
- ・2020年の九谷焼の仕事をしている人の数は， B 年に比べると，約350人減っている。

□ 小松市に住んでいるかなさんとお母さんは、七尾市の祖父の家に出かけることになり、地図を見ながら話し合っています。学校で使っている地図帳〔帝国書院 51～52 ページ〕を参考にして、あとの問いに答えましょう。

かなさん：「①小松市から七尾市までは、どうやって行くの。」

お母さん：「列車で行こうと思っているの。」

かなさん：「小松駅を出発したら、列車の窓から、石川県で一番高い山の（ A ）と、一番長い川の手取川が見えるかな。」

お母さん：「見えると思うよ。そういえば、おじいちゃんが、②真脇遺跡や白米千枚田などに連れて行ってくれるらしいよ。」

かなさん：「うれしいな。石川県で一番大きい島の（ B ）にも行きたいね。自然が豊かで、イルカウォッチングもできるらしいね。」

お母さん：「自然は、③災害を起こすこともあるけれど、観光にも生かされているね。行くのが楽しみね。」

(1) A にあてはまる山、B にあてはまる島の名前を、それぞれ書きましょう。

(2) 下線部①について、次の問いに答えましょう。

① 七尾市は、小松市から見て、どの方位にあるといえますか。八方位を使って表しましょう。

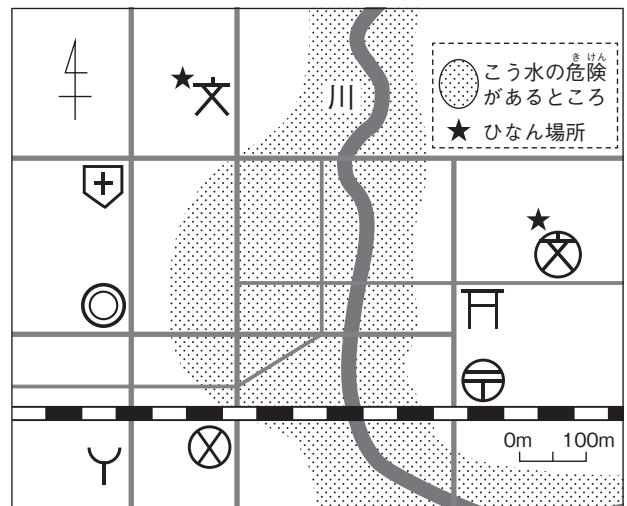
② 小松市の市役所と七尾市の市役所までの距離は、直線でおおよそ何 km になりますか。市役所の位置を示す地図記号をもとに、書きましょう。

(3) 下線部②のような史跡・名勝を表す地図記号を、次のア～エから 1 つ選び、その記号を書きましょう。



(4) 下線部③について、市や町では、ハザードマップを作成しています。災害が起こったとき、安全にひなんするために、このハザードマップが役立つのはなぜですか。その理由を、資料をもとに、1 つ書きましょう。

〔資料〕かなさんの住んでいる地域のハザードマップの一部




小学校4年 わたしたちの住んでいる県


【1枚目】

設問番号	正 答 例	準 正 答 例	留 意 事 項														
1 6	①	小松（空港）															
	②	ウ															
	③	110（km）		± 3km であれば可。													
	④	ア、ウ		・ 順序不問。 ・ 完答のみ可。													
	(1) ⑤	<table border="0"> <tr> <td>(帝国書院)</td> <td>(東京書籍)</td> </tr> <tr> <td>・ 輪島ぬり</td> <td>・ 輪島ぬり</td> </tr> <tr> <td>・ 加賀友ぜん</td> <td>・ 仏だん</td> </tr> <tr> <td>・ 金ばく</td> <td>・ 加賀友ぜん</td> </tr> <tr> <td>・ 郷土がん具</td> <td>・ 金沢はく</td> </tr> <tr> <td>・ 九谷やき</td> <td>・ 九谷焼</td> </tr> <tr> <td>・ 山中しっ器</td> <td>・ 山中しっ器</td> </tr> </table>	(帝国書院)	(東京書籍)	・ 輪島ぬり	・ 輪島ぬり	・ 加賀友ぜん	・ 仏だん	・ 金ばく	・ 加賀友ぜん	・ 郷土がん具	・ 金沢はく	・ 九谷やき	・ 九谷焼	・ 山中しっ器	・ 山中しっ器	
(帝国書院)	(東京書籍)																
・ 輪島ぬり	・ 輪島ぬり																
・ 加賀友ぜん	・ 仏だん																
・ 金ばく	・ 加賀友ぜん																
・ 郷土がん具	・ 金沢はく																
・ 九谷やき	・ 九谷焼																
・ 山中しっ器	・ 山中しっ器																
(2)	機械（工業）とせんい（工業）	・ 機械（工業） ・ せんい（工業）	同意であれば可。														

【2枚目】

設問番号	正 答 例	準 正 答 例	留 意 事 項	
1 6	①	イ		
	②	北陸自動車道	北陸道	
	③	日本海		
	(1) ④			・ 完全にぬりつぶしてなくても可。 ・ ぬった場所が小松市を選んでいることが分かれば可。
	⑤	(およそ) 130 (km)		± 3km であれば可。
(2) B	(資料1と資料2を比べると、石川県の耕地のうちで水田のしめる割合が、) ・ 全国の耕地のうちで水田のしめる割合よりも大きい ・ 全国よりも高い (ので、石川県は米づくりがさかんだといえる。)		同意であれば可。	

【3枚目】

設問番号	正 答 例	準 正 答 例	留 意 事 項	
<div style="display: flex; align-items: center;"> <div style="border: 1px solid black; padding: 2px; margin-right: 5px;">1</div> <div style="border: 1px solid black; border-radius: 50%; padding: 2px; margin-right: 5px;">7</div> </div>	(1)	① 能登島		
		② 白山		
		③ 北陸（自動車道）		
	(2)	(およそ) 110 (km)		± 3km であれば可。
	(3)			<ul style="list-style-type: none"> ・ぬった場所が金沢市を選んでいることが分ければ可。 ・完全にぬりつぶしていなくても可。
(4)	A (これは、石川県の伝統的な産業を) ・守っていく ・受けついでいく ・発てんさせていく (必要があるからだ。)		同意であれば可。	
	B 2010 (年)			

【4枚目】

設問番号	正 答 例	準 正 答 例	留 意 事 項	
<div style="display: flex; align-items: center;"> <div style="border: 1px solid black; padding: 2px; margin-right: 5px;">1</div> <div style="border: 1px solid black; border-radius: 50%; padding: 2px; margin-right: 5px;">6</div> </div>	(1)	A 白山		
		B 能登島		
	(2)	① 北東		
		② (およそ) 85 (km)		± 2km であれば可。
	(3)	エ		
(4)	<ul style="list-style-type: none"> ・ひなん場所がどこにあるか、知ることができるから。 ・こう水のきけんがあるところがどこか分かるから。 		同意であれば可。	